

3.ročník prvej časti I. stupňa

Pracovný list

1. Opakovanie intervalov

Interval- je výšková vzdialenosť medzi dvoma tónmi. Intervaly majú latinské názvy- **prima, sekunda, tercia, kvarta, kvinta, sexta, septima, oktáva**. Delia sa na: **čisté** (prima 1, kvarta 4, kvinta 5, oktáva 8)


veľké (sekunda 2, tercia 3, sexta 6, septima 7)

Základné intervaly od tónu c1



ČISTÁ PRIMA VEĽKÁ SEKUNDA VEĽKÁ TERCIA ČISTÁ KVARTA ČISTÁ KVINTA VEĽKÁ SEXTA VEĽKÁ SEPTIMA ČISTÁ OKTÁVA


ÚLOHA: spoj čiarou interval a názov intervalu:




v.3 č.1 č.5 v.2 v.7 č.4 č.8 v.6

ÚLOHA: Napíš stupnicu E dur a cis mol.

E dur – 4 # (fis, cis, gis, dis)



cis mol- 4 # (fis, cis, gis, dis)



2. Dychové nástroje

Patria sem všetky nástroje, pri ktorých tvoríme tón vdychovaním vzduchu.

Delia sa na:

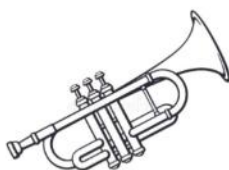

- **Drevené:** flauta, pikola, hobojs, klarinet, fagot (sú z časti vyrobené z dreva,
- **Plechové:** trúbka, lesný roh, pozauna, tuba (sú vyrobené z plechu,)



🎵 **ÚLOHA:** zadeľ intervaly do dvoch skupín: (v každej sú 4)

- ČISTÉ: _____
- VEĽKÉ: _____

🎵 **ÚLOHA:** Skús ich pomenovať:



🎵 **ÚLOHA:** Roztried' dychové nástroje do dvoch skupín:

Flauta, tuba, hobojs, pozauna, klarinet, trúbka, fagot, lesný roh, saxofón

DREVENÉ:

PLECHOVÉ:
